

**නව නිර්දේශය ප්‍රතිපාදන පාලන කමිටුව / New Syllabus**

<div style="border: 2px solid black; padding: 5px; display: inline-block;"> <b>NEW</b> </div>	<b>33 S I</b>
---	---------------

**අධ්‍යයන පොදු සහතික පත්‍ර (සාමාන්‍ය පෙළ) විභාගය, 2017 දෙසැම්බර්  
கல்விப் பொதுத் தராதரப் பத்திர (சாதாரண தர)ப் பரீட்சை, 2017 டிசெம்பர்  
General Certificate of Education (Ord. Level) Examination, December 2017**

ඉතිහාසය	I
வரலாறு	I
History	I

**පැය එකයි  
ஒரு மணித்தியாலம்  
One hour**

**සැලකිය යුතුයි :**

- (i) සියලු ම ප්‍රශ්නවලට පිළිතුරු සපයන්න. මෙම පත්‍රය සඳහා ලකුණු 80 ක් හිමි වේ.
- (ii) අංක 1 සිට 40 තෙක් ප්‍රශ්නවල, දී ඇති (1), (2), (3), (4) පිළිතුරුවලින් නිවැරදි හෝ වඩාත් ගැළපෙන හෝ පිළිතුර තෝරන්න.
- (iii) ඔබට සැපයෙන පිළිතුරු පත්‍රයේ එක් එක් ප්‍රශ්නය සඳහා දී ඇති කව අතුරෙන්, ඔබ තෝරා ගත් පිළිතුරෙහි අංකයට සැසඳෙන කඩය තුළ (X) ලකුණ යොදන්න.
- (iv) එම පිළිතුරු පත්‍රයේ පිටුපස, දී ඇති අනෙක් උපදෙස් ද සැලකිල්ලෙන් කියවා, ඒවා ද පිළිපදින්න.

1. ක්‍රි.ව. හතරවන ශතවර්ෂයේදී පමණ රචනා කිරීම, තොරතුරු කෙටියෙන් දක්වා තිබීම, මෙරට පැරණිතම වංසකතාව වීම යන කරුණු අදාළ වන්නේ කවර මූලාශ්‍රයක් සම්බන්ධයෙන් ද?
 

(1) මහාවංසය	(2) දීපවංසය	(3) දායාවංසය	(4) බෝධිවංසය
-------------	-------------	--------------	--------------
2. මෙරට ශාසන ඉතිහාසයට මුල් තැනක් දෙමින් රචිත ග්‍රන්ථයක් වන්නේ,
 

(1) රාජාවලියයි.	(2) රාජරත්නාකරයයි.	(3) නිකාය සංග්‍රහයයි.	(4) විනයවිධිකතාවයි.
-----------------	--------------------	-----------------------	---------------------
3. වටිනා ඓතිහාසික මූලාශ්‍රයක් ලෙස සැලකෙන ශිලා ලිපි සම්බන්ධයෙන් අදාළ නොවන ප්‍රකාශය තෝරන්න.
 

(1) ශිලා ලිපිවල සඳහන් තොරතුරු සිද්ධීන්ට සමකාලීන වේ.
(2) වංස කතාවල දැක්වෙන තොරතුරු සනාථ කිරීමට උපකාරී වේ.
(3) අඛණ්ඩ දේශපාලන ඉතිහාසය ගොඩ නගා ගැනීමට යොදා ගත හැකි ය.
(4) සිංහල අක්ෂර පරිණාමය වූ ආකාරය දැන ගැනීමට ප්‍රයෝජනවත් ය.
4. මූලත්සිංහල, කුරුවිට වැනි ප්‍රදේශවල පිහිටි ලෙන් වැදගත් වන්නේ ඒවා,
 

(1) අනුරාධපුර-පොළොන්නරු යුගවලදී ආරක්ෂිත ස්ථාන වීම නිසා ය.
(2) පැරණි බෞද්ධ ආරාම ලෙස පැවතීම නිසා ය.
(3) මුහුණින් අක්ෂර ලිපි ලිවීම සඳහා යොදා ගෙන ඇති නිසා ය.
(4) ප්‍රාග් ඓතිහාසික මානවයන්ගේ ජීවන තොරතුරුවලට අදාළ සාධක හමුවන නිසා ය.
5. පහත දැක්වෙන පුද්ගලයන් අතුරෙන් ශ්‍රී ලංකාවට පැමිණ තොරතුරු අධ්‍යයනය කොට වාර්තා සැකසුවත් දැක්වෙන පිළිතුර කුමක් ද?
 

A - මෙගස්තිනිස්	B - ෆාහියන් හිමි
C - ටොලමි	D - ඉබන් බතූතා
E - රොබට් නොක්ස්	F - හියුං සියූං

(1) B, D හා F	(2) C, D හා E	(3) B, D හා E	(4) A, B හා D
---------------	---------------	---------------	---------------
6. ක්‍රි.ව. පස්වන ශත වර්ෂයේදී ශ්‍රී ලංකාවේ විසූ රාජකීය කාන්තාවන්ගේ ඇඳුම් පැළඳුම් හා විලාසිතා පිළිබඳ අවබෝධයක් ලබා ගැනීමට ඉවහල් වන්නේ කවරක් ද?
 

(1) සිහිරි පර්වතයෙහි ඇඳ ඇති කාන්තා රූප
(2) පුරා විද්‍යාත්මක කැනීම්වලින් හමුවූ ආහරණ කොටස්
(3) පොළොන්නරුවේ නිවංක පිළිමගෙයි ඇති චිත්‍ර සටහන්
(4) මහනුවර දළදා මාලිගාවේ ඇති චිත්‍ර
7. ශ්‍රී ලංකාවේ පූර්ව ඓතිහාසික යුගයට අයත් වැදගත් සිදුවීම් වන්නේ,
 

(1) මැටි වළං භාවිතය ආරම්භ කිරීම ය.
(2) නිර්වානා හා කහඳගල් භාවිත කර ක්ෂුද්‍ර ගල් මෙවලම් නිපදවීම ය.
(3) ශාක හා සතුන් පුලුස්සා ආහාරයට ගැනීම ය.
(4) සංචාරක ජීවිතයක් ගත කරමින් ස්වාභාවික ගල්ගුහාවල ජීවත් වීම ය.

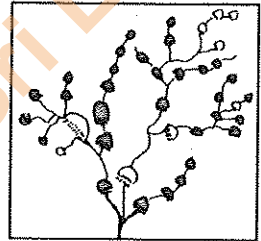
Department of Examinations Sri Lanka

8. අදින් වසර 3000කට පමණ පෙරදී මෙරට විසුවන් දහනය සඳහා ඔක්සිජන් වායුව අවශ්‍ය බව දැන සිටි බවට ඉදිරිපත් කළ හැකි නිදසුනක් වන්නේ,  
 (1) කිතුල්ගල බෙලිලෙනින් හමු වූ පිළිස්සු කැළෑ දෙල් ඇට ය.  
 (2) පුලුස්සා වර්ණවත් කළ මැටි බදුන් ය.  
 (3) උඩ රංචාමඩමේ දී හමුවූ නිවාස නටඹුන්වල පිළිස්සු මැටි කැබලි ය.  
 (4) දිවයිනේ විවිධ ප්‍රදේශවල හමුවූ මැටිමරු සුසාන ය.
9. මළ සිරුරු දිරා යන තුරු වළලා පසුව ගොඩ ගෙන හිස් කබල සුමට කිරීම, එහි ගුරුගල් ආලේප කිරීම යන චාරිත්‍ර විධි පිළිබඳව සාධක ලැබෙන්නේ මින් කවර කාල පරිච්ඡේදයක දී ද?  
 (1) පූර්ව ඓතිහාසික යුගය (2) ප්‍රාග් ඓතිහාසික යුගය  
 (3) මුල් ඓතිහාසික යුගය (4) ඓතිහාසික යුගය
10. ශ්‍රී ලංකාවේ මුල් ඓතිහාසික යුගයේ ජනාවාස ව්‍යාප්තිය ගංගා නිම්නවලින් පිටත ප්‍රදේශවල සිදුවූ බව තුනක පුරා විද්‍යාඥයන්ගේ මතය වී තිබේ. ඒ බව සනාථ කෙරෙන ගංගා නිම්නයක් වන්නේ කුමක් ද?  
 (1) ගල් ඔය (2) කිරිඳි ඔය (3) මල්වතු ඔය (4) යාන් ඔය

● යාබද රූපසටහනින් දැක්වෙන්නේ වැව් පද්ධතියකි. ඒ ආශ්‍රයෙන් අංක 11 සහ 12 ප්‍රශ්නවලට පිළිතුරු සපයන්න.

11. මෙවැනි වැව් පද්ධති නිර්මාණය කිරීමේ එක් අරමුණක් වන්නට ඇත්තේ,

- (1) ජලය සංරක්ෂණය කර ගැනීම ය.  
 (2) ගංවතුර පාලනය කර ගැනීම ය.  
 (3) දේශගුණයේ සම්බරතාව රැක ගැනීම ය.  
 (4) පාංශු බාදනය වළක්වා ගැනීම ය.



12. මෙවැනි වැව් පද්ධති බහුලව දක්නට ලැබෙන්නේ,

- (1) තෙත් කලාපයේ ය. (2) වියලි කලාපයේ ය.  
 (3) කඳුරට තෙත් කලාපයේ ය. (4) පහත රට අතරමැදි තෙත් කලාපයේ ය.

13. ලංකා ඉතිහාසයේ පළමුවරට ඔයක් හරහා අමුණක් තැනූ පාලකයා වශයෙන් සැලකෙනුයේ,

- (1) වසන රජු ය. (2) මහසෙන් රජු ය. (3) පළමුවන අශ්වමේඛ රජු ය. (4) ඉළනාග රජු ය.

14. සැලසුම, තාක්ෂණය හා අලංකරණය යන කරුණු අතින් ශ්‍රී ලංකාවේ විශිෂ්ටතම නාගරික උද්‍යානය ලෙස සැලකෙනුයේ,

- (1) මහමෙවුනා උද්‍යානයයි. (2) දීප උද්‍යානයයි.  
 (3) සීගිරි උද්‍යානයයි. (4) රත්මසු උද්‍යානයයි.

15. විහාර ආරාමවලට කරන ලද පූජාවන් ගැන තොරතුරු ඇතුළත් ශිලාලිපිවල විවිධ සංකේත භාවිත කර ඇත. එහි හංසයා නිරූපණය කෙරෙන සංකේතයෙන් හැඟවෙන්නේ කුමක් ද?

- (1) සෞභාග්‍යය (2) පාරිශුද්ධත්වය (3) ආරක්ෂාව (4) පූර්ණත්වය

16. අතීතයේදී මාර්ගවල දුර දැක්වීමට භාවිත කළ මිම්ම වූයේ,

- (1) ගව්ව ය. (2) වියන ය. (3) කරිස ය. (4) අඟල ය.

17. පහත I කීරුවේ ශ්‍රී ලංකාවේ පැවති ග්‍රාමීය ජනාවාස කිහිපයක් දැක්වෙන අතර II කීරුවේ ඒවායේ ප්‍රධාන ආර්ථික කටයුත්ත කුමක්දැයි දැක්වේ.

I කීරුව	II කීරුව
1. කසිකාර ගම	A - ධීවර කර්මාන්තය
2. ගෝපාල ගම	B - වළං තැනීම
3. කේවට්ටි ගම	C - වඩු කර්මාන්තය
	D - ගොවිතැන
	E - සත්ත්ව පාලනය

I කීරුව අනුව II කීරුව ගැලපූ විට නිවැරදි පිළිතුර කුමක් ද?

- (1) A, C හා E (2) C, B හා D (3) D, E හා A (4) E, B හා D

18. ශ්‍රී ලංකාව බහු වාර්ගික, බහු ආගමික මෙන් ම විවිධ සංස්කෘතීන්ට අයත් රටක් වීමට බලපෑ ප්‍රධාන හේතුව වන්නේ,

- (1) දූපතක් වශයෙන් පිහිටීම ය. (2) ස්වාභාවික සම්පත් ඇති රටක් වීම ය.  
 (3) සැපවත් දේශගුණයක් සහිත රටක් වීම ය. (4) ඉන්දියන් සාගරයේ මධ්‍යගතව පිහිටීම ය.

19. පහත දැක්වෙන පාලක-පාලිකාවන් අතුරින් පොළොන්නරු රාජධානියට අයත් වන්නන් දැක්වෙන වරණය කුමක් ද?

- A - වංකනාසික තිස්ස රජ B - කළ්‍යාණවතී රජන  
 C - වසන රජ D - නිශ්ශංකමල්ල රජ  
 E - මහසෙන් රජ F - සභාසමල්ල රජ
- (1) A, C හා F (2) B, E හා F (3) A, B හා E (4) B, D හා F

Department of Examinations Sri Lanka

20. අතීත සමාජයේ යම් අපරාධකරුවකු ගමක සැඟවී සිටින අවස්ථාවක ඔහු අල්ලා දීමේ වගකීම පැවරී තිබුණේ,  
 (1) ගමකට ය. (2) ගමේ සියලු දෙනාට ය.  
 (3) දසගම් ඇත්තන්ට ය. (4) පරුමුකට ය.

21. පහත A සිට E තෙක් ලංකාවේ බලයට පත්වූ රජවරුන් කිහිපදෙනෙකු රාජ්‍යත්වයට පත්වීමට පෙර භාවිත කළ නම් දැක්වේ.  
 A - සපුමල් කුමරු B - මුත්තුසාමි කුමරු  
 C - ටිකිරි කුමරු D - මහා අස්ථාන කුමරු  
 E - කන්නසාමි කුමරු

ඒවා අධ්‍යයනය කර පළමුවන රාජසිංහ, හයවන භූවනෙකබාහු සහ ශ්‍රී වික්‍රමරාජසිංහ යන රජවරුන් භාවිත කළ නම් පිළිවෙළින් දැක්වෙන පිළිතුර තෝරන්න.

- (1) C, A හා E (2) D, A හා B (3) C, A හා B (4) D, C හා B

22. ගම්පොළ රාජධානි සමයේ දේශපාලන ක්ෂේත්‍රයේ දැකිය හැකි විශේෂ ලක්ෂණය වන්නේ,

- (1) හින්දු හා මහායාන බලපෑම නිසා පිළිම ගෙවල්වල දේවාල ඉදි කිරීම ය.  
 (2) සංදේශ කාව්‍ය ලිවීම ආරම්භ කිරීම ය.  
 (3) මව් පාර්ශ්වයෙන් රාජ්‍ය උරුමවීමේ ක්‍රමයක් ආරම්භ වීම ය.  
 (4) රාජ්‍ය උරුමය එකම රාජකීය පවුලක පිය-පුතු ක්‍රමයට හිමි වීම ය.

23. යාපන රාජ්‍යයේ බිඳ වැටීම සම්බන්ධ සාමාන්‍ය ප්‍රකාශය තෝරන්න.

- (1) රාජ්‍ය උරුමකරුවන් අතර ඇතිවූ බල අරගලය (2) යාපන පාලකයන්ට නිත්‍ය හමුදාවක් නොසිටීම  
 (3) ස්වාභාවික ආරක්ෂාවක් නොතිබීම (4) යාපනයේ බහුතර ජනතාව පෘතුගීසීන්ට පක්ෂපාති වීම

- පහත දැක්වෙන ඓතිහාසික සිදුවීම් ඇසුරින් 24 සහ 25 ප්‍රශ්නවලට පිළිතුරු සපයන්න.

- A - දන්තවරු සටනින් පෘතුගීසීන් පරාජය කිරීම  
 B - කුසුමාසන දේවි දෝන කතිරිනා නමින් බෞතීස්මය ලැබීම  
 C - නායක්කර වංශයට මහනුවර රාජ්‍යයේ උරුමය හිමි වීම  
 D - මෙරට සියම් නිකායේ ආරම්භය සිදු වීම

24. ඉහත සිදුවීම්වල නිවැරදි ඓතිහාසික අනුපිළිවෙළ දක්වන්න.

- (1) A, B, D හා C (2) B, C, A හා D (3) A, C, B හා D (4) B, A, C හා D

25. C අක්ෂරයෙන් දැක්වෙන ඓතිහාසික සිදුවීම හා සම්බන්ධ රජකුමා කවුරුන් ද?

- (1) ශ්‍රී වීර පරාක්‍රම නරේන්ද්‍රසිංහ (2) කීර්ති ශ්‍රී රාජසිංහ  
 (3) ශ්‍රී විජය රාජසිංහ (4) රාජාධිරාජසිංහ

- පහත වගුවේ A සිට F තෙක් තොරතුරු ඇසුරින් 26 සහ 27 ප්‍රශ්නවලට පිළිතුරු සපයන්න.

බලපෑ හේතුව	නායකයා	ආණ්ඩුකාරවරයා
A - රජයේ බදු ප්‍රතිපත්තිය	C - කැප්පෙට්පොල දිසාව	E - ටොරින්ටන් සාමි
B - රජකු නැතිවීම පිළිබඳ පසුතැවිල්ල	D - ගොංගාලෙගොඩ බණ්ඩා	F - සර් රොබට් බ්‍රවුන්රිස්

26. ක්‍රි.ව. 1818 නිදහස් සටන හා සම්බන්ධවන තොරතුරු දැක්වෙන පිළිතුර කුමක් ද?

- (1) A, C හා E (2) B, C හා F (3) A, D හා F (4) B, D හා E

27. ක්‍රි.ව. 1848 නිදහස් සටන හා සම්බන්ධවන තොරතුරු දැක්වෙන පිළිතුර කුමක් ද?

- (1) A, D හා E (2) B, D හා E (3) A, C හා F (4) B, C හා F

28. 19 වන සියවසේ දී ශ්‍රී ලංකාවේ ඇතිවූ ආගමික හා සංස්කෘතික ප්‍රබෝධය සම්බන්ධ අදහස් යුගල කිහිපයක් පහත දැක්වේ. මින් හොඳලපෙන යුගලය කුමක් ද?

- (1) හෙන්රි ස්ටීල් ඕල්කට්තුමා - පරම විඥානාර්ථ සමාගම පිහිටුවීම  
 (2) හික්කඩුවේ ශ්‍රී සුමංගල හිමි - පැලියගොඩ විද්‍යාලංකාර පිරිවෙන ඇරඹීම  
 (3) ආරුමුග නාවලර්තුමා - උදයභාණු පුවත්පත ඇරඹීම  
 (4) සිද්ධි ලෙබ්බෙ මහතා - මරදානේ සහිරා විදුහල පිහිටුවීම

29. ශ්‍රී ලංකාවේ බ්‍රිතාන්‍ය පාලනය නිසා හටගත් පහත දැක්වෙන වෙනස්කම් අතරින් සංස්කෘතික වෙනස්කම් දෙකක් දැක්වෙන පිළිතුර කුමක් ද?

- A - කම්කරු පන්තියක් බිහිවීම  
 B - බටහිර ඇඳුම් පැළඳුම්, ආචාර විධි මෙරට සමාජ ගත වීම  
 C - බටහිර අධ්‍යාපනය ව්‍යාප්ත වීම  
 D - වැටුපට සේවය කරන ශ්‍රමික පිරිසක් බිහිවීම  
 E - වෘත්තීය සංගම් පිහිටුවීම

- (1) B හා C (2) C හා D (3) B හා E (4) C හා E

Department of Examinations Sri Lanka

30. ලංකා ජාතික සංගමයේ ප්‍රථම සභාපතිවරයා ලෙස පත්වූයේ කවුරුන් ද?  
 (1) සර්. ඩී.බී. ජයතිලක මහතා (2) පොන්නම්බලම් අරුණාවලම් මහතා  
 (3) එල්. ආර්. සේනානායක මහතා (4) පොන්නම්බලම් රාමනාදන් මහතා
31. 1978 ආණ්ඩුක්‍රම ව්‍යවස්ථාව අනුව ජාතික වැදගත්කමකින් යුත් කරුණක් සම්බන්ධව තීරණයක් ගැනීම සඳහා අනුග්‍රහ මතය කළ හැකි ප්‍රජාතන්ත්‍රවාදී ක්‍රමය කුමක් ද?  
 (1) පාර්ලිමේන්තුවේ වාද විවාද පැවැත්වීම (2) ශ්‍රේෂ්ඨාධිකරණයට ඉදිරිපත් කොට තීන්දුවක් ලබා ගැනීම  
 (3) ජනමත විචාරණයක් පැවැත්වීම (4) රටේ විද්වතුන්ගෙන් අදහස් විමසීම
- පහත දැක්වෙන A හා B ඇසුරෙන් 32 සහ 33 ප්‍රශ්නවලට පිළිතුරු සපයන්න.  
 A - වෙනස් පිටියේ දිවුරුම  
 B - සරයේවෝ සිද්ධිය
32. ප්‍රංශ විප්ලවය සම්බන්ධයෙන්,  
 (1) A හා B අසත්‍ය වේ. (2) A හා B සත්‍ය වේ.  
 (3) A සත්‍ය වන අතර B අසත්‍ය වේ. (4) A අසත්‍ය වන අතර B සත්‍ය වේ.
33. පළමුවන ලෝක මහා සංග්‍රාමය සම්බන්ධයෙන්,  
 (1) A හා B අසත්‍ය වේ. (2) A හා B සත්‍ය වේ.  
 (3) A සත්‍ය වන අතර B අසත්‍ය වේ. (4) A අසත්‍ය වන අතර B සත්‍ය වේ.
- පහත A, B, C හා D වලින් දැක්වෙන ප්‍රකාශ/පද යුගල අධ්‍යයනය කර 34 සිට 36 තෙක් ප්‍රශ්නවලට පිළිතුරු සපයන්න.  
 A - 1. නාවුක හෙන්රි 2. දේශගවේෂණය B - 1. දෙවන ලෝක මහා සංග්‍රාමය 2. ජාතීන්ගේ සංගමය  
 C - 1. කොන්ස්තන්තිනෝපලය තුර්කිත් අල්ලා ගැනීම D - 1. විශ්වය පිළිබඳ නව සොයා ගැනීම් 2. විද්‍යාවේ දියුණුව  
 2. පුනරුදය ඇරඹීම
34. දෙවැනි ක්‍රියාත්මක වීම සඳහා පළමුවැන්නේ අනුග්‍රහය පෙන්වන ප්‍රකාශ/පද යුගලය කුමක් ද?  
 (1) A (2) B (3) C (4) D
35. පළමුවැන්න හා දෙවැන්න අතර සම්බන්ධයක් නොපෙන්වන ප්‍රකාශ/පද යුගලය කුමක් ද?  
 (1) A (2) B (3) C (4) D
36. පළමුවැන්න දෙවැන්නේ වර්ධනයට හේතුවන බව දැක්වෙන ප්‍රකාශ/පද යුගලය කුමක් ද?  
 (1) A (2) B (3) C (4) D
- ලෝකයේ ප්‍රධාන විප්ලව හා සම්බන්ධ තොරතුරු කිහිපයක් පහත දැක්වේ. ඒවා ඇසුරින් 37 සහ 38 ප්‍රශ්නවලට පිළිතුරු සපයන්න.  
 A - සාමය, ඉඩම් හා ආහාර  
 B - ස්වේච්ඡා ජනරජ සභාව  
 C - නියෝජනයක් නැත්නම් බදුන් නැත  
 D - බැස්ටිල බන්ධනාගාරයට පහර දීම
37. රුසියන් විප්ලවයේ තේමා පාඨය වන්නේ,  
 (1) A ය. (2) B ය. (3) C ය. (4) D ය.
38. ඇමෙරිකන් නිදහස් සටන හා සම්බන්ධ තොරතුරක් වන්නේ,  
 (1) A ය. (2) B ය. (3) C ය. (4) D ය.
39. පහත සඳහන් කාර්යයන් හා සම්බන්ධ එක්සත් ජාතීන්ගේ ආයතනය කුමක් ද?  
 ● ආරක්ෂක මණ්ඩලයේ නිර්දේශ මත මහලේකම් පත් කිරීම  
 ● අන්තර් ජාතික අධිකරණයට විනිශ්චයකරුවන් පත් කිරීම  
 ● නව සාමාජිකයින් සංවිධානයට බඳවා ගැනීම  
 (1) මහා මණ්ඩලය (2) භාරකාර මණ්ඩලය  
 (3) ආර්ථික හා සමාජීය මණ්ඩලය (4) මහලේකම් කාර්යාලය
40. අමෙරිකන් හෝ රුසියන් පිලට ගැනී නොවීමේ අවශ්‍යතාව පෙන්වා දෙමින් ස්වාධීන සංවිධානයක් පිහිටුවීමේ ව්‍යාපාරයේ ප්‍රමුඛත්වය ගත් ආසියානු නායකයා,  
 (1) ජවහර්ලාල් නේරු ය. (2) එස්.ඩබ්.ආර්.ඩී. බණ්ඩාරනායක ය.  
 (3) අබ්දුල් ගමල් නසාර් ය. (4) මාෂල් ට්ටෝ ය.

\*\*\*

Department of Examinations Sri Lanka

**නව නිර්දේශය/புதிய பாடத்திட்டம் / New Syllabus**

NEW	33 S II
-----	---------

**අධ්‍යයන පොදු සහතික පත්‍ර (සාමාන්‍ය පෙළ) විභාගය, 2017 දෙසැම්බර්  
கல்விப் பொதுத் தராதரப் பத்திர (சாதாரண தர)ப் பரீட்சை, 2017 டிசெம்பர்  
General Certificate of Education (Ord. Level) Examination, December 2017**

**ඉතිහාසය II**  
வரலாறு II  
History II

**පැය තුනයි**  
மூன்று மணித்தியாலம்  
Three hours

- \* I කොටසේ ප්‍රශ්න අංක I අනිවාර්ය වේ.
- \* II කොටසින් ප්‍රශ්න හතරකට ද, III කොටසින් ප්‍රශ්න එකකට ද පිළිතුරු සපයන්න.
- \* පිළිතුරු සැපයිය යුතු මුළු ප්‍රශ්න සංඛ්‍යාව හයකි.


**I කොටස**

1. (අ) පහත (i) යටතේ දක්වා ඇති ඓතිහාසික ස්ථාන සියල්ල ම සපයා ඇති ශ්‍රී ලංකා සිතියමෙහි ද (ii) යටතේ දක්වා ඇති ඓතිහාසික ස්ථාන සියල්ල ම සපයා ඇති ලෝක සිතියම් කොටසෙහි ද ලකුණු කර නම් කරන්න.
- (i) කිරිඳි මිය, ඉරණමඩු වැව, දේවනගර, සල්වතොට, කන්තරෝධය (කදුරුගොඩ), සොරබොර වැව, ගන්නොරුව, ශ්‍රී ජයවර්ධනපුර කෝට්ටේ, කලාමය, ග්‍රෙඩරික් කොටුව, පොම්පරිප්පු, ගාලු වරාය (ලකුණු 12 යි)
- (ii) බොම්බාය, රතු මුහුද, රෝමය, මලය අර්ධද්වීපය, ජපන් දූපත්, පාකුගාලය (ලකුණු 06 යි)

- (ආ) (i) පහත A, B, C හා D යටතේ දක්වා ඇති ඓතිහාසික තොරතුරුවලට අදාළ පිළිතුරු අනුපිළිවෙළින් ඔබේ පිළිතුරු පත්‍රයේ ලියා දක්වන්න.
- A - යුරෝපීය ජාතීන්ගේ ආගමනයට පෙර ඉන්දියන් සාගරයේ වෙළෙඳ ඒකාධිකාරය හිමි කර ගත් ජාතිය
  - B - පෘතුගීසීන් මෙරටින් නෙරපීමට නාවුක බලයක් ඇති විදේශීය ජාතියක සහාය ලබා ගත් උඩරට රජතුමා
  - C - ගල්පොත ශිලාලිපිය කරවූ පොළොන්නරු පාලකයා
  - D - දේවන ලෝක මහා සංග්‍රාම සමයේදී පළමු න්‍යෂ්ටික බෝම්බ ප්‍රහාරයට ලක්වූ නගරය (ලකුණු 04 යි)


● A සහ B යටතේ දක්වා ඇති පින්තූර අධ්‍යයනය කොට, අසා ඇති ප්‍රශ්නවලට පිළිතුරු අංක අනුපිළිවෙළින් ඔබේ පිළිතුරු පත්‍රයේ ලියන්න.

- (ii) 1. 'A' වලින් දැක්වෙන නිර්මාණය කුමක් ද?  
2. එයින් කෙරෙන කාර්යය කුමක් ද?  
3. මේවා කවර වාරි නිර්මාණයක් ආශ්‍රිතව දැකිය හැකි වේ ද?  
4. මේවා නිර්මාණය කිරීමට යොදාගත් ද්‍රව්‍යයක් සඳහන් කරන්න. (ලකුණු 04 යි)



A

- (iii) 1. 'B' වලින් දැක්වෙන්නේ කුමක් ද?  
2. එය පිහිටා ඇති නගරය කුමක් ද?  
3. මෙය භාවිත කර ඇත්තේ කවුරුන් රැදවීම සඳහා ද?  
4. ලෝකයේ කවර විප්ලවයක් හා මෙය සම්බන්ධ ද? (ලකුණු 04 යි)



B

II කොටස

2. (i) ශ්‍රී ලංකාවේ දකුණු පළාතට අයත්වන අර්ධ ගුණක කලාපයේ ප්‍රාග් ඓතිහාසික ගල් මෙවලම් හමු වී ඇති ස්ථාන තුනක් නම් කරන්න. (ලකුණු 03 යි)
- (ii) ප්‍රාග් ඓතිහාසික මානවයාගේ ජීවන රටාවේ කැපී පෙනුණු ලක්ෂණ දෙකක් සඳහන් කරන්න. (ලකුණු 04 යි)
- (iii) (a) පූර්ව ඓතිහාසික යුගය යනුවෙන් සැලකෙනුයේ කවර කාල පරිච්ඡේදයක් ද?  
 (b) ශ්‍රී ලංකාවේ පූර්ව ඓතිහාසික යුගයට අයත් සුසාන භූමි පිහිටි ස්ථාන තුනක් දක්වන්න. (ලකුණු 05 යි)
- (iv) පූර්ව ඓතිහාසික යුගයේ ජීවත්වූ මානවයා තාක්ෂණය භාවිත කළ ආකාරය කරුණු තුනක් දක්වමින් පැහැදිලි කරන්න. (ලකුණු 06 යි)
3. (i) ශ්‍රී ලංකාවේ මධ්‍යගත පාලනයට අයත් වූ පහත සඳහන් කාර්යයන් හා සම්බන්ධ පුද්ගලයන්ගේ නිල නාම වරහන් තුළින් තෝරා අනුපිළිවෙළින් දක්වන්න.  
 A - කාසි අවිච්ඡිද්ධ ගැසිමේ අංශ ප්‍රධානියා  
 B - අශ්ව අංශයේ ප්‍රධානියා  
 C - වෙළෙඳ කටයුතු පිළිබඳ ප්‍රධානියා  
 (රූප අදෙක, පන අදෙක, නගර වුඩ්ක, නට අදෙක, අස අදෙක) (ලකුණු 03 යි)
- (ii) පහත සඳහන් එක් එක් කරුණට සම්බන්ධ පාලකයන් කවුරුන්දැයි අනුපිළිවෙළින් ලියා දක්වන්න.  
 A - තම මාමාවරුන් යටත් කොට රජකමට පත් වීම  
 B - මෙරට ඉතිහාසයේ ප්‍රථම වරට සංවිධානාත්මක සටන් ව්‍යාපාරයක් දියත් කොට එක්සත් ලංකාවක් බිහි කිරීම  
 C - විශාල වැව් ඉදිකිරීමේ ප්‍රමුඛයා වීම  
 D - පෘතුගීසි වංශිකයන්ගේ ආධාරයෙන් පොළොන්නරුවේ තෙවරක් බලයට පත්වූ රජු වීම (ලකුණු 04 යි)
- (iii) අතීත ශ්‍රී ලංකාවේ ගමක පාලනය සිදුවූ ආකාරය එහි නායකත්වය හා කාර්යභාරය ඇසුරින් පැහැදිලි කරන්න. (ලකුණු 05 යි)
- (iv) අතීත ශ්‍රී ලංකාවේ ආර්ථිකයෙහි දේශීය මෙන් ම විදේශීය වෙළෙඳාමට ප්‍රධාන තැනක් හිමිව තිබූ බව කරුණු තුනක් ඇසුරෙන් පැහැදිලි කරන්න. (ලකුණු 06 යි)
4. (i) අනුරාධපුර යුගයේ දී ඉදි කරන ලද විශාල වැව් තුනක් නම් කරන්න. (ලකුණු 03 යි)
- (ii) පහත A, B, C හා D වලින් දැක්වෙන පැරණි තාක්ෂණය හා සම්බන්ධ නිර්මාණ මොනවාදැයි වරහන් තුළින් තෝරා අනුපිළිවෙළින් දක්වන්න.  
 A - ප්‍රාග් ඓතිහාසික යුගයේ මානවයන් තම කාර්යයන් ඉටු කර ගැනීම සඳහා භාවිත කළ තාක්ෂණික උපකරණ හඳුන්වන නම  
 B - මැටි බඳුන් සැකසීම සඳහා යොදා ගත් තාක්ෂණික උපකරණය  
 C - ජල පීඩනය සමනය කොට ඇළට ජලය නිකුත් කිරීමට භාවිත කළ තාක්ෂණික නිර්මාණය  
 D - ස්ථිතික ජල විද්‍යා මූලධර්මය භාවිත කොට කරන ලද නිර්මාණය  
 (රළ පනාව, බිසෝ කොටුව, දුනු-ඊතල, සකපෝරුව, ශිලා මෙවලම්, දැදිගම ඇත් පහන, පිටවාන, කටාරම) (ලකුණු 04 යි)
- (iii) අතීත පාලකයන් මහවැව් ඉදි කිරීමෙන් බලාපොරොත්තු වූ අරමුණු දෙකක් සැකෙවින් පැහැදිලි කරන්න. (ලකුණු 05 යි)
- (iv) (a) අතීත ශ්‍රී ලංකාවේ දියුණු යකඩ නිස්සාරණ තාක්ෂණයක් තිබූ බවට පුරා විද්‍යාත්මක තොරතුරු ලැබෙන ස්ථාන දෙකක් සඳහන් කරන්න.  
 (b) එම ස්ථානයන්හි යකඩ නිස්සාරණය කළ ආකාරය සැකෙවින් දක්වන්න. (ලකුණු 06 යි)
5. (i) ශ්‍රී ලංකාවේ පළමුවැනි නාගරීකරණ අවධියට අයත් පැරණි පරිපාලන නගර තුනක් නම් කරන්න. (ලකුණු 03 යි)
- (ii) පළමුවැනි නාගරීකරණ අවධියට අයත් පැරණි නගර පරිහානියට බලපෑ හේතු හතරක් සඳහන් කරන්න. (ලකුණු 04 යි)
- (iii) දඹදෙණි රාජධානියේ රජ කළ දෙවන පරාක්‍රමබාහු රජුගේ රාජ්‍ය කාලයේ වැදගත්කම කරුණු දෙකක් ඇසුරින් පැහැදිලි කරන්න. (ලකුණු 05 යි)
- (iv) දෙවන නාගරීකරණ අවධියේදී ශ්‍රී ලංකාවේ ආර්ථික රටාවේ ඇතිවූ වෙනස්කම් තුනක් නිදසුන් දක්වමින් පැහැදිලි කරන්න. (ලකුණු 06 යි)

Department of Examinations Sri Lanka

- 6. (i) කන්ද උඩරට රාජ්‍යයේ අගනගරය වූ මහනුවර ආරක්ෂාව සම්බන්ධයෙන් වැදගත්වන
    - (a) ගංගාව
    - (b) දුර්ග මාර්ග දෙකක්
 අනුපිළිවෙළින් සඳහන් කරන්න. (ලකුණු 03 යි)
  - (ii) පහත සඳහන් තොරතුරු හා සම්බන්ධ පුද්ගලයන් කවුරුන්දැයි අනුපිළිවෙළින් සඳහන් කරන්න.
    - A - සීතාවක රාජසිංහ රජු උඩරට ආක්‍රමණය කරන විට එහි සිටි පාලකයා
    - B - නව රාජ වංශයක් ආරම්භ කළ උඩරට පාලකයා
    - C - ක්‍රි.ව. 1602 දී මහනුවරට පැමිණි ලන්දේසි දූත කණ්ඩායමේ ප්‍රධානියා
    - D - ක්‍රි.ව.1766 දී ලන්දේසීන් සමග ගිවිසුමක් ඇති කර ගත් උඩරට රජතුමා
 (ලකුණු 04 යි)
  - (iii) මහනුවර රාජධානියේ ප්‍රාදේශීය පාලනය සංවිධානය වූ ආකාරය කරුණු දෙකක් ඇසුරින් පැහැදිලි කරන්න. (ලකුණු 05 යි)
  - (iv) මහනුවර රාජධානියේ සමාජ සංවිධානයෙහි කැපී පෙනුණු ලක්ෂණ තුනක් නිදසුන් දක්වමින් විස්තර කරන්න. (ලකුණු 06 යි)
- 7. (i) පහත සඳහන් එක් එක් දේශපාලන වෙනස්කම් සිදුවූයේ කවර ආණ්ඩුක්‍රම ප්‍රතිසංස්කරණ යටතේදැයි වරහන් තුළින් තෝරා A, B හා C අනුපිළිවෙළින් සඳහන් කරන්න.
    - A - ව්‍යවස්ථාපිත සභාවට ප්‍රථම වරට සීමිත ඡන්ද බලයෙන් නියෝජිතයන් පත් කිරීම
    - B - සාමාජිකයන් 61 දෙනකුගෙන් යුත් රාජ්‍ය මන්ත්‍රණ සභාව පිහිටුවීම
    - C - සාමාජිකයන් 30 දෙනකුගෙන් යුත් සෙනෙට් සභාව ස්ථාපිත කිරීම
 (ක්‍රි.ව.1833-කෝල්බෲක්, ක්‍රි.ව.1910-කෲව් මැකලම්, ක්‍රි.ව.1931-ධොනමෝර්, ක්‍රි.ව.1947-සෝල්බරි) (ලකුණු 03 යි)
  - (ii) 1833 කොල්බෲක් ප්‍රතිසංස්කරණ මගින් සිදු කළ පරිපාලන වෙනස්කම් දෙකක් හා ආර්ථික වෙනස්කම් දෙකක් සඳහන් කරන්න. (ලකුණු 04 යි)
  - (iii) බ්‍රිතාන්‍ය පාලනය නිසා මෙරට සිදුවූ සමාජමය වෙනස්කම් දෙකක් සැකෙවින් විස්තර කරන්න. (ලකුණු 05 යි)
  - (iv) නිදහසින් පසු ශ්‍රී ලංකාවේ ආරම්භ කළ බහුකාර්ය සංවර්ධන යෝජනා ක්‍රම දෙකක් නම් කර, ඒවා මෙරට ආර්ථික සංවර්ධනයට දායක වූ ආකාරය කරුණු දෙකක් ඇසුරින් පැහැදිලි කරන්න. (ලකුණු 06 යි)

III කොටස

- 8. (i) බ්‍රිතාන්‍යයේ කාර්මික විප්ලවය ප්‍රධාන කර්මාන්ත තුනක් ආශ්‍රිතව ආරම්භ විය. ඒවා නම් කරන්න. (ලකුණු 03 යි)
  - (ii) කාර්මික විප්ලව සමයේ (A) සන්නිවේදන හා (B) ප්‍රවාහන යන ක්ෂේත්‍රයන්හි ඇතිවූ නව නිමැවුම් දෙක බැගින් පිළිවෙළින් සඳහන් කරන්න. (ලකුණු 04 යි)
  - (iii) කාර්මික විප්ලවය නිසා ලෝකයේ සමාජ ක්ෂේත්‍රයේ හටගත් වෙනස්කම් දෙකක් විස්තර කරන්න. (ලකුණු 05 යි)
  - (iv) කාර්මික විප්ලවය ශ්‍රී ලංකාව කෙරෙහි බලපෑ ආකාරය නිදසුන් තුනක් දක්වමින් පැහැදිලි කරන්න. (ලකුණු 06 යි)
- 9. (i) පළමුවන ලෝක මහා සංග්‍රාමයේදී මිත්‍ර පිලට අයත් වූ රටවල් තුනක් නම් කරන්න. (ලකුණු 03 යි)
  - (ii) පහත සඳහන් තොරතුරුවලට අදාළ පිළිතුරු අනුපිළිවෙළින් දක්වන්න.
    - A - පළමුවන ලෝක මහා සංග්‍රාම සමයේදී ඇමෙරිකාවේ සිටි ජනාධිපතිවරයා
    - B - දෙවන ලෝක මහා සංග්‍රාම සමයේදී ජපන් ප්‍රහාරයට ලක්වූ ඇමෙරිකානු වරාය
    - C - දෙවන ලෝක මහා සංග්‍රාමයේදී ජර්මන් වධ කඳවුරුවලදී ඝාතනයට ලක්වූ ජන වර්ගය
    - D - ඇඩෝල්ෆ් හිට්ලර්ගේ රහස් පොලිසිය හැඳින්වූ නම
 (ලකුණු 04 යි)
  - (iii) දෙවන ලෝක මහා සංග්‍රාමයට තුඩු දුන් හේතු දෙකක් සැකෙවින් විස්තර කරන්න. (ලකුණු 05 යි)
  - (iv) දෙවන ලෝක මහා සංග්‍රාමය නිසා මහත් විනාශකාරී ප්‍රතිඵල ඇති වූ බව කරුණු තුනක් දක්වමින් පැහැදිලි කරන්න. (ලකුණු 06 යි)

\* \* \*

Department of Examinations Sri Lanka

Department of Examinations Sri Lanka

Department of Examinations Sri Lanka



## නව නිර්දේශය/புதிய பாடத்திட்டம்/New Syllabus



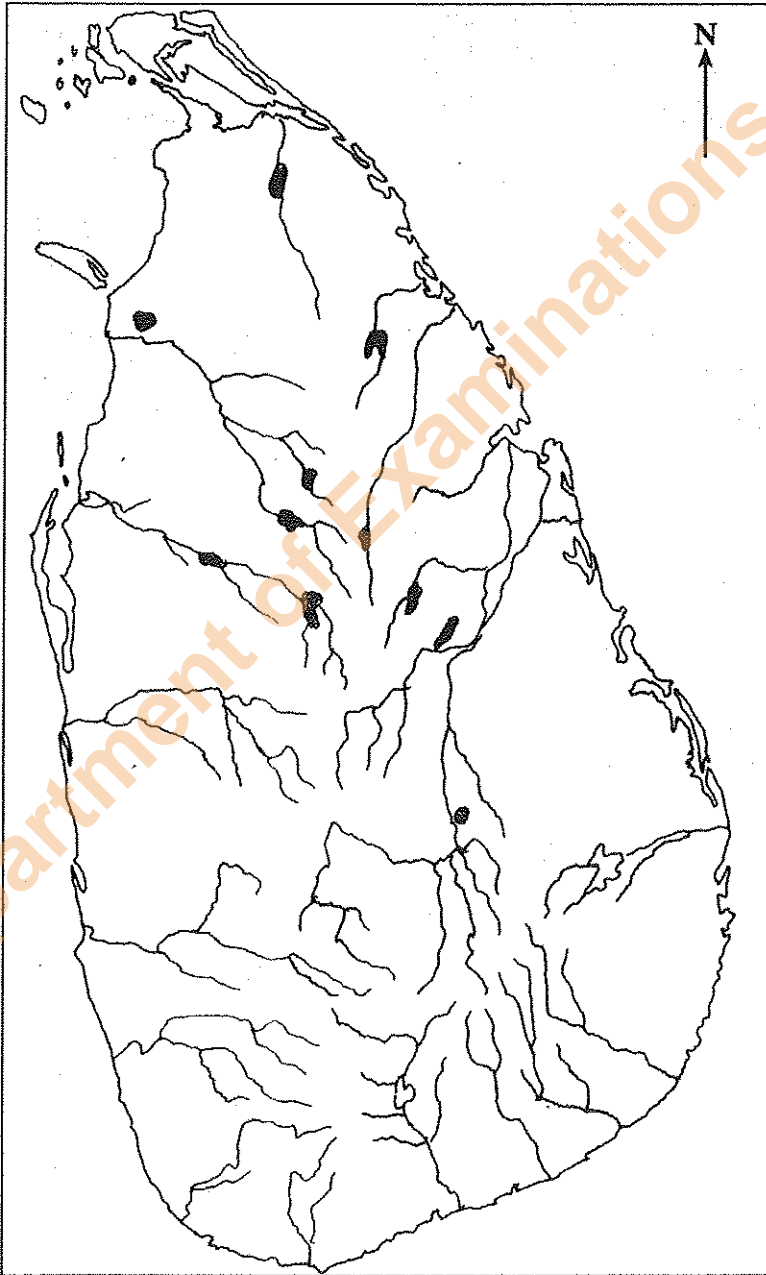

ශ්‍රී ලංකා විභාග දෙපාර්තමේන්තුව  
 இலங்கைப் பரீட்சைத் திணைக்களம்  
 Department of Examinations, Sri Lanka

අධ්‍යයන පොදු සහතික පත්‍ර (සාමාන්‍ය පෙළ) විභාගය, 2017 දෙසැම්බර්  
 கல்விப் பொதுத் தராதரப் பத்திர (சாதாரண தர)ப் பரீட்சை, 2017 டிசெம்பர்  
 General Certificate of Education (Ord. Level) Examination, December 2017

ඉතිහාසය	II
வரலாறு	II
History	II

1. (අ) (i)  
 1. (அ) (i)  
 1. (a) (i)

විභාග අංකය }  
 சுட்டுடன் }  
 Index No. }



- 1. (අ) (ii)
- 1. (ආ) (ii)
- 1. (ඇ) (ii)

